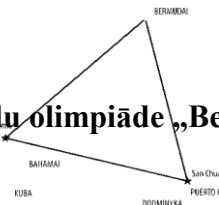


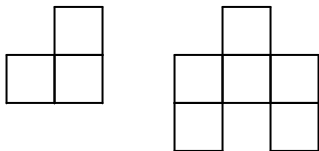
Komandu olimpiāde „Bermudu trijstūris”



Katru uzdevumu vērtē ar $0 \div 5$ punktiem. Risināšanas laiks - 3 astronomiskās stundas

Uzdevumi 7. klasei

1. Doti 5 skaitļi. Katru divu skaitļu summa ir lielāka par 4. Pierādīt, ka visu piecu skaitļu summa ir lielāka par 10.
2. Vai no dotajām figūrām var salikt a) 8×8 ; b) 9×9 rūtiņu kvadrātu, katru no tām izmantojot vismaz vienu reizi (figūras drīkst pagriezt, taču tās nedrīkst pārklāties, kā arī nedrīkst palikt tukšumi).

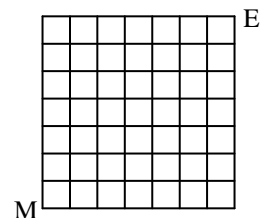


3. Skolā mācās 2007 skolēni. Ir skolēni, kuri pazīst viens otru, ir arī tādi, kuri nav pazīstami. (Visas pazīšanās ir abpusējas.) Vai skolā noteikti ir tāds skolēns, kurš pazīst pāra skaitu citu skolēnu?
4. Konkurss „Šovs ar zvaigzni” piedalās 11 dalībnieki. 3 tiesneši vērtē dalībnieku uzstāšanos ballu sistēmā no 1 līdz 10. Pirmais tiesnesis ir sev atviegojis vērtēšanas procesu un vērtē dalībnieku uzstāšanos tikai ar nepāra ballēm (1, 3, 5, 7, 9). Tāpat vērtēšanu atvieglo otrais tiesnesis un vērtē dalībnieku uzstāšanos tikai ar pāra ballēm (2, 4, 6, 8, 10). Vienīgi trešais tiesnesis paliek uzticīgs dotajai sistēmai un vērtē dalībniekus ar ballēm no 1 līdz 10. Pēc pirmās uzstāšanās izrādījās, ka visiem dalībniekiem ir atšķirīgi vērtējumi. Pierādīt, ka var atrast tādus divus dalībniekus, kuru vērtējumu summa dalās ar 3.
5. Naturālu skaitli a sauc par *pirmklasīgu*, ja skaitļu a , a^2 un $a + a^2$ ciparu summas ir pirmskaitļi.
 - a) Atrodiet vismaz vienu *pirmklasīgu* divciparu skaitli!
 - b) Vai $3n$ var būt *pirmklasīgs* skaitlis, ja n - naturāls skaitlis?
6. Dotas 9 pēc ārējā izskata vienādas monētas un sviru svāri bez atsvariem. Divas no tām ir izgatavotas no vieglāka materiāla. Abas vieglākās monētas sver vienādi, pārējās 7 smagākās- arī vienādi. Vai ar 4 svēršanas reizēm ir iespējams atrast visas vieglākās monētas?
7. Olga uzrakstīja trīsciparu skaitli. Renārs pierakstīja Olgas skaitlim galā tādu pašu trīsciparu skaitli, tādējādi iegūstot sešciparu skaitli. Pierādīt, ka iegūtais skaitlis noteikti dalās ar trīs pēc kārtas ņemtiem pirmskaitļiem.
8. Orbitreku ciemā ir 20 ciltis, kuras pielūdz dievības. Katru dievību pielūdz tieši 3 ciltis. Orbitreki uzskata, ka brīdī, kad kāda cilts pielūdz tieši 7 dievības, tā atrodas *balansā*. Viedākie Orbitreki ir pierādījuši, ka brīdī, kad visas ciltis būs *balansā*, pienāks Pasaules gals. Vai Pasaules gals var pienākt?
9. Rindā nostājušies 20072007 elfi. Daži no elfiem vienmēr runā tikai taisnību, bet pārējie vienmēr melo. Katrs no elfiem apgalvoja, ka vairāk kā trešdaļa no viņa pa kreisi stāvošajiem elfiem melo. Pierādīt, ka tieši trešdaļa no elfiem ir meļi.

10. No pirmajiem 80 naturālajiem skaitļiem izvēlējās 20 pāra skaitļus un 20 nepāra skaitļus. Izvēlēto pāra skaitļu summa ir vienāda ar izvēlēto nepāra skaitļu summu. Pierādīt, ka starp izvēlētajiem skaitļiem ir divi tādi, kuru summa ir 81.
11. Katrā kvadrāta $ABCD$ virsotnē ieskrūvēta spuldzīte. Katrā kvadrāta malā ir slēdzis, kuru nospiežot, tās spuldzītes, kas atrodas attiecīgās malas galos, maina savu stāvokli: ja spuldzīte(-s) ir ieslēgta(-s), tā(-s) izslēdzas, bet, ja izslēgta(-s), tad ieslēdzas. Katrai spuldzītei ir īpašība: to ieslēdzot pirmo reizi, tā ir sarkana, ieslēdzot otro reizi- dzeltena, trešo reizi- sarkana, ceturto reizi- dzeltena u.t.t. Sākumā spuldzītes A un C ir sarkanas, bet B un D vēl ne reizi nav ieslēgtas. Vai, vairākas reizes nospiežot slēdžus, var panākt, ka visas spuldzītes ir ieslēgtas vienā krāsā?

12. Šaha galdiņa katrā rūtiņā jāieraksta kāds no skaitļiem -1 ; 0 ; 1 . Vai skaitļus var ierakstīt, tā, ka katrā 2×2 kvadrātā ierakstīto skaitļu summa būtu 0 , bet katrā 3×3 kvadrātā ierakstīto skaitļu summa būtu 1 ?

13. Dots 7×7 rūtiņu tīkls ar rūtiņu malu garumu 1 metrs. Spēlētāji Mārtiņš un Edgars pamīšus pārvieto katrs savu spēles kauliņu pa rūtiņu virsotnēm. Turklāt kauliņu vienā gājienā drīkst pārvietot tieši par 1 metru un tikai uz virsotnēm, kurās iepriekš nav bijis neviens cits kauliņš. Mārtiņš spēli uzsāk no virsotnes M , bet Edgars no virsotnes E . Spēlētājs, kurš vairs nespēj izdarīt gājienu, zaudē. Kurš spēlētājs uzvar, pareizi spēlējot, ja pirmais gājienu izdara Mārtiņš?



14. Uz skaitļu taisnes atzīmēti visi vesēlie punkti, t.i., punkti, kuri atbilst vesēliem skaitļiem. Katrus divus punktus x un y savieno ar loku, ja $|x-y|$ ir pirmskaitlis. Kāds ir mazākais to krāsu skaits, kurās var nokrāsot visus atzīmētos punktus tā, lai katri divi ar loku savienotie punkti būtu nokrāsoti dažādās krāsās?
15. Turnīrā piedalās 10 komandas. Katra komanda ar katru izspēlē tieši 2 reizes. Neizšķirts nav iespējams. Katrai komandai tiek piešķirts *indekss*, kas norāda, cik gara ir bijusi komandas pēdējo uzvarēto vai zaudēto spēļu sērija. Ja komanda pēdējās, piemēram, 5 spēles ir uzvarējusi, tad *indekss* ir 5. Savukārt, ja komanda pēdējās, piemēram, 7 spēles ir zaudējusi, tad *indekss* ir -7 . Kāda ir maksimālā iespējamā visu komandu *indeksu* summa?